

DENEME

A



T.C. KİMLİK NUMARASI																
ADI																
SOYADI																
SALON NO.													SIRA NO.			

ADAYIN DİKKATİNE!

SINAV BAŞLAMADAN ÖNCE AŞAĞIDAKİ UYARILARI MUTLAKA OKUYUNUZ.

1. T.C. Kimlik Numaranızı, Adınızı, Soyadınızı, Salon Numaranızı ve Sıra Numaranızı, Soru Kitapçığı üzerindeki ilgili alanlara yazınız.
2. Soru Kitapçık Numaranız yukarıda verilmiştir. Bu numarayı cevap kâğıdınızdaki ilgili alana kodlayınız ve aşağıdaki ilgili alanı imzalayınız. Bu kodlamayı cevap kâğıdınıza yapmadığınız veya yanlış yaptığınız takdirde, sınavınızın değerlendirilmesi mümkün değildir. Bu numaranın cevap kâğıdı üzerine kodlanmamasının, eksik veya yanlış kodlanmasının sorumluluğu size aittir.
3. Sınav süresi 155 dakikadır.

Adayın imzası:
Soru kitapçık numarasını
cevap kâğıdındaki alana
doğru kodladım.

SORU SAYILARI

TÜRKÇE	: 20 soru
SOSYAL BİLGİLER	: 10 soru
DİN KÜLTÜRÜ VE AHLAK BİLGİSİ	: 10 soru
İNGİLİZCE	: 10 soru
SINAV SÜRESİ	: 75 dakika

SÖZEL BÖLÜM

A**TÜRKÇE****A**

1. “Aşağı-yukarı, gece-gündüz, aydınlık-karanlık” gibi anlamca birbirinin karşıtı olan kelimelere zıt anlamlı kelimeler adı verilir. Türkçemizde her sözcüğün eş anlamlısı olmadığı gibi zıt anlamlısı da yoktur.


Aşağıdaki dizelerin hangisinde birbiriyle zıt (karşıt) anlamlı sözcükler bir arada kullanılmamıştır?

- A) Güneş her akşam batıp her gün doğuyor
Çiçekler solup solup tekrar açıyor
- B) Gel deniz bakışlım, sel gibi coş gel
Bana doğru köpür, bana doğru ak
- C) Küçüklü büyüklü hep bir ağızdan
Dünyaca söylenir türkümüz bizim
- D) Yüksekğinde büyük namlı karın var
Alçağında mor sümbüllü bağın var

2.

“Uyanmak” sözcüğü aşağıdakilerin hangisinde bu medya başlığındaki anlamıyla kullanılmıştır?

- A) Akşam erken yatmıştım, sabah gün doğmadan önce uyandım.
- B) Arkadaşım verdiği kitapları okuduktan sonra biraz olsun uyandı.
- C) Dolandırıcıların eline 5 bin lirayı saydıktan sonra uyandı.
- D) Şehrin altında yıllardan beri sessizce duran fay uyandı ve koskoca şehri âdetâ yerle bir etti.

3.

Konuşmanın hiçbir şeye yaramadığını hissettiğim anlar oluyor.

Bu sözünden hareketle Beethoven ile ilgili olarak aşağıdakilerden hangisi söylenebilir?

- A) Zaman zaman konuşmanın faydasız olduğunu duyumsadığı
- B) Konuşmayı her şeyin üstünde bir eylem olarak gördüğü
- C) Konuşmayı rahatlamanın bir yolu olarak düşündüğü
- D) Bütün sorunların konuşmayla çözülebileceğini anladığı

4.

Cümle Kutusu

- Annem, misafirler için yemek hazırlamış.
- Üniversiteyi bitirince öğretmen olarak beş yıl görev yaptım.
- Paris'te Fransızca'yı bilen bir rehberimiz olduğu için şehri çok rahat gezdik.
- Kitapçıktaki sorulardan birinin cevabını bulamadım.

Aşağıdakilerden hangisi, cümle kutusundaki altı çizili sözcüklerden herhangi birinin anlamdaşı (eş anlamlısı) değildir?

- | | |
|-----------|----------|
| A) yanıt | B) öncü |
| C) vazife | D) konuk |

5.

----. İnsan önce gerçekçi ve mantıklı düşünmeyi öğrenmelidir. Çünkü, erişilemeyecek amaçlar, gerçekleştirilemeyecek düşlerdir ve bu düşler insanı mutsuzluğa sürükler. Elinde olan değerleri görmezden gelip olmayanların ve ulaşılamayacak isteklerin tutkusuyla yaşamak, mutsuzluk doğurur. Bu yüzden istek ve gereksinimler gerçeğe uygunsu gündemde tutulmalı, değilse gündeme dahi getirilmemelidir.

Bu parçanın başına düşüncenin akışına göre aşağıdakilerden hangisi getirilmelidir?

- A) Gerçekçi olmayan insanlar zamanla hedeflerinden uzaklaşır
- B) Elindekilerin değerini bilmeyen insan, elinde olmayanlara hiç ulaşamaz
- C) Mutlu olmak isteyen insan, kendine büyük hedefler belirlemeli ve bu hedeflerin peşinde koşmalıdır
- D) Mutsuzluk, gerçekleşmesi mümkün olmayan arzuların peşinde koşmaktan kaynaklanır

6.

Yapılan yanlışlar, yerine getirilmesi gereken sorumluluklar insanda stres oluşturur. Stresi yenmek için öncelikle strese neden olan kaynağı tanımak gerekir. Stresten kurtulmak için gerçeklerden kaçmak yerine gerçeklerin üstüne gidilmelidir. Korkudan, kaygıdan kurtulmak için kaçma yolunu deneyenler tehlikeli bir yola girerler. Çünkü korku kaçmayı, kaçma da korkuyu doğurur. Böyle davranan insanlar strese girer ve mutsuz olur.

Bu parçada asıl anlatılmak istenen aşağıdakilerden hangisidir?

- A) Stresten kurtulmanın yolunun gerçeklerle yüzleşmekten geçtiği
- B) İnsanı olgunlaştıran en önemli şeyin sorumluluklar olduğu
- C) Hatalarından ders alan kişilerin kolay kolay yanlış yapmayacağı
- D) Günümüzde stresle başa çıkabilmenin mümkün olmadığı

7. Açıklamalar:

- Bir sınıfın kitap okuma saatinde bazı öğrenciler roman okumaktadır.
- O sınıfın okuma saatinde hiçbir erkek öğrenci roman okumamaktadır.
- Söz konusu sınıfın kitap okuma saatinde her öğrenci kitap okumaktadır.

Çıkarımlar:

1. Sınıftaki tüm kız öğrenciler roman okumaktadır.
2. Sınıfta romandan farklı türde kitap okuyan öğrenciler de vardır.

Yukarıdaki açıklamalardan hareketle bazı çıkarımlar yapılmıştır.

Bu çıkarımlarla ilgili olarak aşağıdakilerden hangisi söylenebilir?

- A) Sadece 1. çıkarım doğrudur.
- B) Sadece 2. çıkarım doğrudur.
- C) Her iki çıkarım da doğrudur.
- D) Çıkarımlardan hiçbiri doğru değildir.

8. • Söyleyenin kendi düşüncesini, duygusunu veya beğenisini içeren cümlelere öznel cümleler denir.
- ▶ "Romanda okuru şaşırtan ilginç olaylar peş peşe sıralanıyor." cümlesinde söyleyenin duygusu vardır, dolayısıyla bu cümle öznedir.
- Söyleyenin duygu veya düşüncesini içermeyen, doğruluğu ya da yanlışlığı kişiden kişiye göre değişiklik göstermeyen cümlelere nesnel cümleler denir.
- ▶ "Romandaki olaylar küçük bir sahil kasabasında geçiyor." cümlesindeki yargının doğruluğu kişiden kişiye göre değişmediği için bu cümle nesnedir.

Özlem, bu bilgiler ışığında yaptığı aşağıdaki etkinlikte her doğru işaretleme için 20 puan alacaktır.

	Cümleler	Öznel	Nesnel
1	Çamlıca Tepesi'nden İstanbul Boğazı'nın seyrine kimse doyamaz.	√	
2	Şairin son şiir kitabında beş başlık altında yüz tane şiir yer alıyor.		√
3	Nüfusu 2 milyon olan bu ülke, turizm gelirleriyle geçimini sağlıyor.		√
4	İzmir, nüfus yönüyle Türkiye'nin üçüncü büyük kentidir.	√	
5	Böyle masmavi gökyüzü, yemyeşil doğa insana huzur verir.	√	

Buna göre etkinliği yukarıdaki şekilde yapan Özlem, toplam kaç puan almıştır?

- A) 40 B) 60 C) 80 D) 100

9. Yaşlı adam, şu atasözünü söyledi () "Zenginin kabahati incir olur () basılır () fakirin kabahati armut olur () asılır."

Bu parçada ayrıca belirtilen yerlere, aşağıdakilerin hangisinde verilen noktalama işaretleri sırasıyla getirilmelidir?

- A) (:) (,) (;) (,) B) (,) (,) (;) (,)
C) (:) (,) (,) (,) D) (:) (-) (;) (-)

10. Aşağıdaki cümlelerin hangisinde yazım yanlışlığı yoktur?

- A) Bir kaç öğrenci kütüphanede kitap okuyordu.
B) Ahmet bey de hafta sonunda sinemaya gitmiş.
C) Sendeki çalışma azmi pek az insanda vardır.
D) Siz bu hafta düzenleyeceğimiz geziye katılmıyormu sunuz?

11.

1. Atalarımız ne demiş: "Bir şeyler kalır çok görenin kafasında."
2. Bizim kırlangıç önceden bilirmiş,
3. Büyük küçük bütün fırtınaları.
4. Gemiciler ondan almış haberi.

Bu dörtlükteki numaralanmış dizelerle ilgili olarak;

- K.** 1. dizede, soru zamiri kullanılmıştır.
L. 2. dizede, kişi adının yerini tutan bir sözcük vardır.
M. 3. dizede, belgisiz zamir kullanılmıştır.
N. 4. dizede, işaret zamirine yer verilmiştir.

yargılarından hangileri yanlıştır?

- A) K ve L B) Yalnız M
C) L ve M D) K ve N

12.

	Atasözü	Konusu
1	Azıcık aşım kaygısız başım.	Yetinme
2	Ayağını yorganına göre uzat.	Ölçülü olma
3	Dağ dağa kavuşmaz, insan insana kavuşur.	Yardımlaşma
4	Üzüm üzüme baka baka kararır.	Etkilenme

Yukarıda numaralanmış atasözlerinin karşısında konuları verilmiştir.

Buna göre numaralanmış atasözlerinden hangisinin konusu yanlış verilmiştir?

A) 1

B) 2

C) 3

D) 4

13. ◆ Bu durum bize dünyanın aslında yuvarlak olduğunu gösterir.

❖ Yaklaştıkça gövdesini, son olarak ta arkasını görürüz.

△ Oysa biz dünyayı hep düz olarak görürüz.

★ Okyanustan veya denizden gelen bir geminin önce burnunu görürüz.

Yukarıda sembollerle gösterilen cümleler, anlamlı bir bütün oluşturmak için nasıl sıralanmalıdır?

A) ★ ❖ △ ◆

B) ★ ◆ △ ❖

C) ❖ ★ ◆ △

D) ★ ❖ ◆ △

14. Dünyanın en yeşil üçüncü şehri olmayı başaran Portland, şu sıralar dikkatini doğaya odaklıyor. Yerel halk, yerel olarak üretilen ürünleri tüketmeye özen gösteriyor. Geri dönüşüm, LED sertifikalı binalar da şehirde odak noktası olan konuların başında geliyor. Oregon'un en büyük şehri olan Portland'da yenilenebilir enerji kullanımı diğer şehirlerden yüzde 20 daha fazla.

Bu parçayla ilgili olarak aşağıdakilerden hangisi söylenemez?

A) Kişileştirmeye yer verilmiştir.

B) Bilgilendirici bir metinden alınmıştır.

C) Düşüncenin yönünü değiştiren ifadelere yer verilmiştir.

D) Karşılaştırmadan yararlanılmıştır.

15. Yarın farklıdır bugünden

Adı değişir hiç olmazsa

Kara bir suyu

Geçiyoruz şimdilerde

Basarak yosunlu taşlara

Sen bugünden yarına

Birazcık umut sakla

Bu dizelerin şairi için aşağıdakilerden hangisi söylenbilir?

A) Duyarlı

B) Öfkeli

C) Pişman

D) Umutlu

16. Sevgi, dünyayı yaşanılır kılan yegâne duygudur. Her iş sevgi ile yapılır. Sevgi insanı insan yapar. İnsan için paylaşılması en güzel duygudur. Sevgi olmadan hiçbir insan mutluluğu hissedemez. Sevgi olmadan yaşamak mümkün olmaz. İnsan doğasında sevmek ve sevilme vardır. Kendimizi severiz, ailemizi severiz, işimizi severiz, okulumuzu severiz. Eğer sevgimiz olmasaydı o zaman ne için yaşardık?

Bu parçanın konusu aşağıdakilerden hangisidir?

A) Sevginin başarıya olan katkısı

B) Sevginin insan hayatındaki önemi

C) İnsanın çevresine karşı olan sorumlulukları

D) Sevgi dilinin iletişimdeki yeri

17. Hastalar genellikle ilacı bir yudum suyla ya da bir yudum çayla içebiliyor, derler. Hatta susuz dahi içebildiklerini dile getirirler. İlaçlar çoğunlukla bu şekilde alınıyor. Ancak ilacın doğru alınması çok önemli. İlacı içerken bol su kullanılması, ilacın yemek borusunu tahriş etmeden geçmesi için çok önemli. Bunun yanında ilaç yeterli sıvıyla alınmazsa yavaş çözülür. Yavaş çözülmesi emilimin geç başlamasına ve etkinin geç başlamasına neden olur. Bol su, ilacın hem hızlı çözülmesini hem emilmesini hem de mideden ince bağırsağa geçişini hızlandırır.

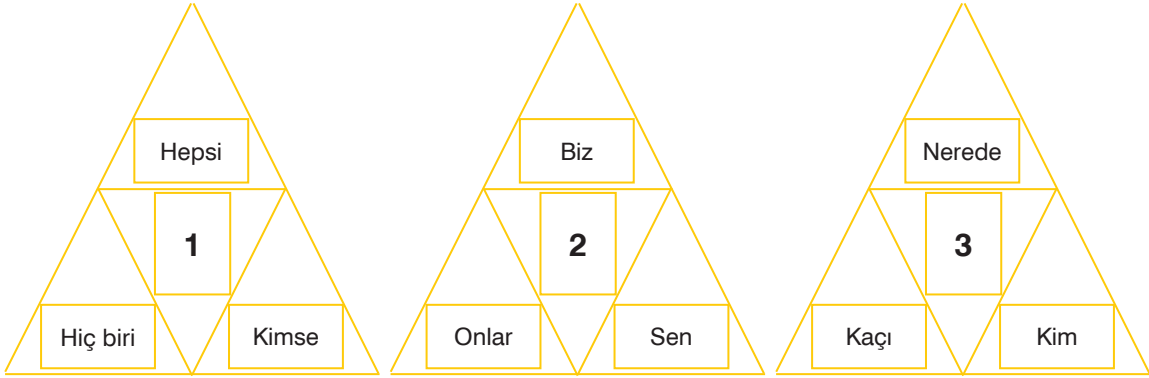
Bu parçadan hareketle;

1. İlacı bol suyla almak ilacın emilimini hızlandırır.
2. İlaç, yeterli suyla alınmazsa ilacın etkisi yok olur.
3. Susuz ya da çok az suyla alınan ilaç, yemek borusunu tahriş edebilir.

yargılarından hangileri çıkarılabilir?

- A) Yalnız 1 B) Yalnız 3 C) 1 ve 2 D) 1 ve 3

18. Aşağıdaki şekillerde numaralanmış bölümlere, çevresindeki zamirlerin türü yazılmak istenmektedir.



Buna göre, numaralanmış yerlere getirilecek zamir türleri aşağıdakilerin hangisinde doğru verilmiştir?

- | | | |
|-------------------|---------------|----------------|
| _____ 1 _____ | _____ 2 _____ | _____ 3 _____ |
| A) Belgisiz zamir | Şahıs zamiri | Soru zamiri |
| B) Şahıs zamiri | İşaret zamiri | Soru zamiri |
| C) İşaret zamiri | Şahıs zamiri | Belgisiz zamir |
| D) Belgisiz zamir | İşaret zamiri | Soru zamiri |

19. ⚡ Alem sele gitti gözüm yaşından. (Abartma)
 🍎 Çamurdandı bütün oyuncaklarım. (Benzetme)
 § Leylek kızmış ama çekmiş sineye. (Kişileştirme)
 ☞ Hay hay, demiş tilki, nasıl gelmem? (Konuşturma)

Yukarıda sembollerle gösterilen dizelerin hangisinde ayraç içindeki söz sanatı yoktur?

- A) ⚡ B) 🍎 C) § D) ☞

20. Yaralı asker, az ötedeki kayalıklara doğru var gücünü harcayarak yeniden koşmaya başladı. En yüksek kayanın altındaki çınar ağacına yaklaştı. Ağacın dibi bir kuyu gibi derinlemesineydi. Sapsarı, altın renkli, kırmızı damarlı yapraklar ağacın dibini doldurmuş, gövdeyi yarı beline kadar örtmüştü. Gitti kendisini yaprakların üstüne attı. Yorgundu, bitmişti. Burada, yaprakların üstünde, gecelemeği düşündü.

Bu metin hangi yazı türünden alınmış olabilir?

- A) Anı B) Masal
 C) Haber yazısı D) Hikâye

1. İlk Türk devletlerinde ülke doğu ve batı şeklinde ikiye ayrılarak yönetilmiştir. Ülkenin doğu bölümünü hakan, batı bölümünü ise hakana bağlı hanedanın bir üyesi yönetmiştir.

İlk Türk devletlerinin bu uygulamayla aşağıdakilerden hangisini amaçladığı savunulabilir?

- A) Ülke yönetimini kolaylaştırmayı
B) Ticareti geliştirmeyi
C) Asker sayısını artırmayı
D) Yeni devletlerin kurulmasını önlemeyi

2.

(1) Türkiye Selçuklu ordusu ile Moğol ordusu Sivas yakınlarındaki Köseadağ mevkiinde karşılaşmıştır. (2) Köseadağ Savaşı'nı Moğollar kazanmıştır. (3) Türkiye Selçuklu Devleti yıkılma sürecine girmiş ve Anadolu'da tekrar beylikler dönemi başlamıştır. (4) Moğol baskısından kaçan Türkmenler Anadolu'nun batısına doğru giderek bu bölgedeki Türk nüfusunun artmasını sağlamıştır.

Yukarıdaki parçada numaralandırılmış cümlelerden hangisi Anadolu'da Türk siyasi birliğinin bozulduğuna kanıt olarak gösterilebilir?

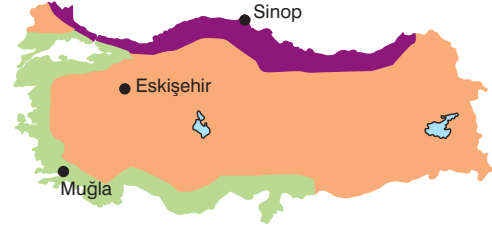
- A) 1 B) 2 C) 3 D) 4

3. Bir bölgenin yer şekillerini yani dağlarını, ovalarını, platolarını, vadilerini, akarsularını ve göllerini göstermede kullanılan haritalara fizikî harita denir.

Buna göre aşağıdakilerden hangisi, Türkiye Fizikî Haritası'nın incelenmesiyle öğrenilemez?

- A) Kıyı bölgelerde yer alan ovalar
B) Marmara Bölgesi'ndeki dağlar
C) Nüfusun yoğun olduğu iller
D) Ege Denizi'ne dökülen akarsular

4. Aşağıdaki haritada, Türkiye'deki iklim bölgeleri ile bazı şehirlerin konumları gösterilmiştir.



Buna göre, haritadaki şehirlerde görülen iklim tipleri, aşağıdakilerin hangisinde doğru verilmiştir?

	Muğla	Eskişehir	Sinop
A)	Akdeniz	Karadeniz	Karasal
B)	Karadeniz	Karasal	Akdeniz
C)	Karasal	Akdeniz	Karadeniz
D)	Akdeniz	Karasal	Karadeniz

5. Aşağıdaki Dünya haritasında kıtaların, okyanusların ve ülkemizin konumu gösterilmiştir.



Haritadaki bilgilere göre, aşağıdaki yargılardan hangisine ulaşamaz?

- A) Ülkemizin okyanuslara kıyısı bulunmamaktadır.
B) Afrika Kıtası'nın hem Kuzey Yarım Küre'de, hem de Güney Yarım Küre'de toprakları bulunur.
C) Okyanusya Kıtası, Türkiye'nin kuzeybatısında yer alır.
D) Ülkemiz Ekvator'un kuzeyinde, başlangıç meridyeninin doğusunda yer alır.

6. “Ülkemiz Asya, Avrupa ve Afrika kıtalarının birbirine yaklaştığı yerdedir. Üç tarafı denizlerle çevrili olan ülkemiz, İstanbul Boğazı ve Çanakkale Boğazı ile kıtaları birbirine bağlayan önemli geçiş yollarını oluşturur. Ülkemizin batıdan doğuya doğru yükseltisinin artmasından dolayı, doğuya doğru sıcaklıklar azalır. Dağların doğu-batı yönünde uzanması, ulaşımın da doğu-batı yönünde gelişmesine neden olmuştur. Yer altı ve yer üstü kaynakları bakımından zengin olan ülkemiz, aynı zamanda petrol zengini ülkelere yakındır. Bu nedenle petrol ve doğal gaz boru hatlarının geçiş noktasını oluşturur.”

Yukarıdaki paragrafta, aşağıdakilerden hangisi açıklanmıştır?

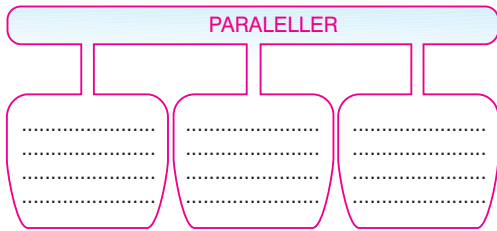
- A) Türkiye'nin göreceli konumu
B) Türkiye'den geçen paralel ve meridyenler
C) Türkiye'nin beşerî özellikleri
D) Türkiye'nin matematik konumu

7. I. Platoların en fazla bulunduğu yer Karadeniz kıyılarıdır.
II. Doğu Anadolu, İç Anadolu ve Güneydoğu Anadolu'da volkanik dağlar bulunur.
III. Toros Dağları, ülkemizin kuzey kıyıları boyunca uzanan sıradağlardır.
IV. Ülkemizdeki ovalar tarımın yoğun şekilde yapıldığı, aynı zamanda hayvancılığın ve ulaşımın da geliştiği, nüfusun fazla olduğu yerlerdir.

Ülkemizin yer şekilleriyle ilgili yukarıda verilen bilgilerden hangileri yanlıştır?

- A) I ve II
B) I ve III
C) II ve III
D) II ve IV

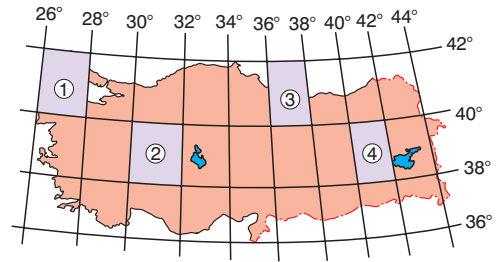
8.



Yukarıdaki diyagramdaki boş bırakılan yerlere, aşağıdakilerden hangisi yazılamaz?

- A) Ekvator'dan kutuplara doğru gidildikçe boyları kısalır.
B) Birer derece aralıkla yatay yönde çizilirler.
C) Aralarındaki uzaklık 111 km'dir.
D) Bir kutup noktasından başlayıp diğer kutup noktasında birleşirler.

9. Dağcı grubu, gönderdikleri mesajda Ekvator'un 39° kuzeyinde ve başlangıç meridyeninin 31° doğusunda yer alan bölgede kaybolduklarını bildirmişlerdir.



Buna göre, arama kurtarma ekibinin kayıp dağcılarını, haritada numaralandırılan bölgelerin hangisinde araması gerekir?

- A) 1
B) 2
C) 3
D) 4

10. “Çocuklar!, Akdeniz çevresinde yaygın bir biçimde görülen; yabani zeytin, defne, mersin, zakkum gibi odunsu, dikenli, bodur ağaç ve çalılardan oluşan bitki topluluğudur.”

Sosyal Bilgiler öğretmeninin konuşmasında boş bırakılan yere, aşağıdakilerden hangisinin yazılması daha uygundur?

- A) Maki
B) Bozkır
C) Çayır
D) Orman

1.



Bu görselde verilen namazla ilgili olarak aşağıdakilerden hangisi söylenemez?

- A) Farz-ı kifaye bir namazdır.
- B) İki rekât olarak kılınır.
- C) Rükûsu ve secdesi yoktur.
- D) Sübhâneke duası okunurken “vecelle senâuk” ifadesi eklenir.

2. Din Kültürü ve Ahlak Bilgisi Öğretmeni Mehmet Bey, derste namazın faydalarını işlerken şu cümleleri söylemiştir:

“..... Bu durum birlikte yaşama ve dayanışma bilincinin gelişmesine yardımcı olur.”

Mehmet Öğretmen’in (.....) ile gösterilen bölümde aşağıdaki cümlelerden hangisini söylemesi beklenir?

- A) Namazın şartlarından birisi abdestli olmaktır.
- B) Namaz, insanı günahlardan arındırır.
- C) Farz namazlar Allah’ın (c.c.) emridir.
- D) Cemaatle namaz kılmak dinimizde teşvik edilmiştir.

3. Melike, ramazan ayında ailesiyle birlikte teravih namazı kılmak için camiye gitmiştir.

Melike’nin yaptığı bu ibadet, namaz çeşitlerinden hangisine örnektir?

- A) Farz-ı ayn
- B) Vacip
- C) Sünnet
- D) Farz-ı kifaye

4.

Akşam Namazı Rekât Sayısı	Öğle Namazı Rekât Sayısı	Sabah Namazı Rekât Sayısı
I	II	III

Yukarıdaki tabloda I, II ve III yerine aşağıdakilerden hangileri yazılmalıdır?

	I	II	III
A)	5	10	4
B)	10	8	5
C)	8	5	10
D)	4	10	5

5. Kur’an-ı Kerim’de; inanç, ibadet, ahlak ve muamelat (sosyal ilişkiler) hakkında bilgi verilir. Peygamberlerin ve bazı toplulukların hayatlarından örneklerin yer aldığı kıssalar anlatılır. Ahirette yaşanacaklara değinilir.

Bu metinde aşağıdaki sorulardan hangisine cevap verilmiştir?

- A) Kur’an’da ele alınan konular nelerdir?
- B) Kur’an, orijinal haliyle bizlere nasıl ulaşmıştır?
- C) Kur’an’dan sonra ilahî kitap gelecek midir?
- D) Kur’an okumak neden önemlidir?

6.



Bu görseldeki kişi namaza hazırlık şartlarından hangisini yerine getirmektedir?

- A) Necasetten taharet B) Setr-i avret C) İsikbâl-i kible D) Hadesten taharet

7.

“Kitap, yalnız bizden önceki iki topluluğa indirildi. Biz onların okumalarından habersiz idik.’ demeyesiniz, yahut, ‘Eğer bize kitap indirilseydi, biz onlardan daha çok doğru yolda olurduk’ demeyesiniz, diye bu Kur’an’ı indirdik...”

En’âm suresi, 156-157. ayetler

Bu ayetlere göre ilahî kitapların gönderilmesinin nedeni aşağıdakilerden hangisidir?

- A) İnsanlara mutluluğun yollarını öğretmek
B) İnsanlara ahlaklı yaşam ilkelerini anlatmak
C) İnsanların, “Bilmiyorduk.” bahanesine sığınmasına engel olmak
D) Evrendeki düzen ve ahenge dikkat çekmek

8.

- I. İsrailoğullarına gönderilmiştir.
II. Hz. İsa’nın (a.s.) annesi Hz. Meryem’in (a.s.) eğitimi ve bakımıyla ilgilenmiştir.
III. Atıldığı ateşte mucize eseri yanmamıştır.

Hz. Zekeriya (a.s.) ile ilgili olarak yukarıda verilen bilgilerden hangileri **yanlıştır**?

- A) Yalnız I. B) Yalnız III.
C) I ve II. D) II ve III.

9.

Safa Tepesi’ne çıkan Allah Resulü Mekkelilere şöyle seslendi: “Şu dağın ardında veya şu vadide size saldırmak üzere olan bir süvari birliğinin olduğunu söylesem bana inanır mıydınız?” Onlar da “Evet senden hep doğruluk gördük.” diyerek cevap verdiler. Böylece onun doğru sözlülüğünü onaylamışlardı. Bunun üzerine Allah Resulü: “Ben Allah’ın görevlendirdiği bir peygamberim. Sizi Allah’a ortak koşmaya davet ediyorum.” diye seslendi.

(Buhârî, Tefsir, 2)

Yukarıda anlatılan olay, Hz. Muhammed’in (s.a.v.) peygamberlerin taşıdığı ortak sıfatlardan hangisine sahip olduğunu göstermektedir?

- A) Mucize B) Sıdk
C) İsmet D) Beşer

10.

Kâde-i âhire, namazdaki son oturuşa denilmektedir. Bu oturuşta bazı dualar okunup ardından selam verilmektedir.

Aşağıdakilerden hangisi kâde-i âhirede okunması gereken dualardan biri değildir?

- A) Rabbenâ duası
B) Ettehiyyâtü duası
C) Sübhâneke duası
D) Allâhümme salli duası

1 – 2: FOR THESE QUESTIONS,
CHOOSE THE BEST OPTION TO FILL
IN THE BLANKS.

1.



I love this city. Look at those
----- . Aren't they beautiful?

- A) skyscrapers B) parks
C) kiosks D) zoos

2.



Gamze

-----?

Of course, he does. He
waters the flowers and
feeds the cat every day.



Oliver

- A) What does Jack do every day
B) Where does Tom go in the evening
C) Does Peter play basketball at the weekend
D) Does your brother run errands

3. Look at the weather. It is hailing at the moment.
I don't like it. I feel anxious.

Who is talking?

A)




B)



C)



D)



4.

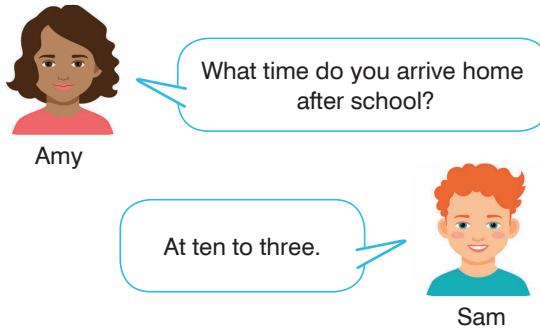
City	Population
Konya	2,052,281
Bursa	2,688,171
Manisa	1,346,162
Şanlıurfa	1,762,075

Which of the following statements about the
table are true?

- I. Manisa is more crowded than Şanlıurfa.
II. Konya has more people than Manisa.
III. More people live in Bursa than Konya.

- A) Only I B) I and II
C) I and III D) II and III

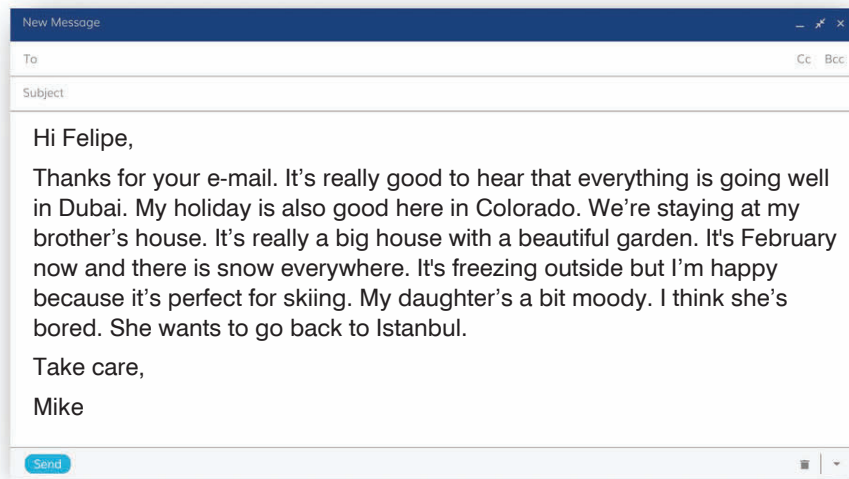
5.



Which of the following shows Sam's answer?



6 – 7: ANSWER THESE QUESTIONS ACCORDING TO THE EMAIL BELOW.



6. Which of the following is true about Mike?

- A) He is travelling alone.
- B) He is staying at a hotel.
- C) He is sunbathing all day.
- D) His daughter is not happy.

7. The weather in Colorado is — now.

Which of the following words **CANNOT** complete the sentence above?

- A) cold
- B) snowy
- C) -2 degrees
- D) warm

8.



Which of the following is NOT true about the picture?

- A) Tom is sitting in the room.
- B) It is sunny outside.
- C) Tom is knitting right now.
- D) Tom is taking a nap.

9 – 10: ANSWER THESE QUESTIONS ACCORDING TO THE DIALOGUE BELOW.



Waiter: Good morning. Welcome to Nick's.
Adley: Good morning. What can I have for breakfast?
Waiter: We have pancakes with jam. Do you want some?
Adley: No, thanks. I hate them. Can I have a croissant?
Waiter: Sorry, ----- . What about some cereal?
Adley: Good idea. It is nutritious too.
Waiter: What about your drink? Do you like coffee?
Adley: I like coffee, but I want my cereal with orange juice.
Waiter: Of course. Here you are. Enjoy your breakfast, Sir.
Adley: Thank you!

9. Which of the following can complete the speech bubble above?

- A) so yummy
- B) they're all gone
- C) it's my favorite
- D) I don't like junk food

10. What does Adley have for breakfast?

