

2023-2024 EĞİTİM ÖĞRETİM

YILI.....

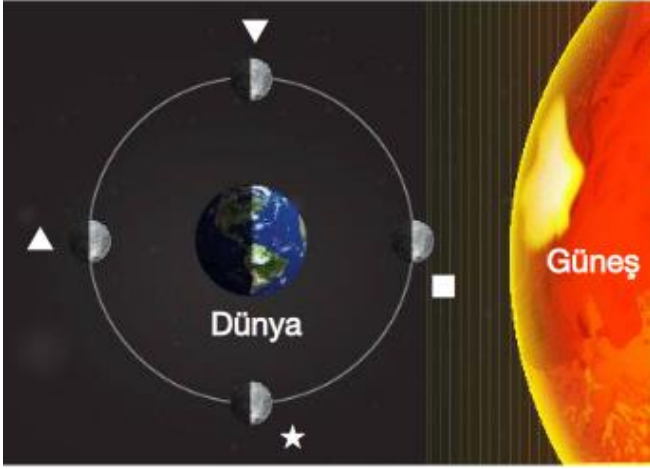
ORTAOKULU 5.SINIFLAR 1.DÖNEM 1.YAZILI

ADI SOYADI:


SINIFI:

NO:

1.



Yukarıda ayın dünya etrafında dolanması sırasında oluşan ana evreleri semboller ile gösterilmiştir. Bu evrelerin dünyadan görünüşünü çiziniz.



2.

AY



Yukarıda Ayın bir görseli verilmiştir. Ayın ile ilgili 4 bilgi veriniz.

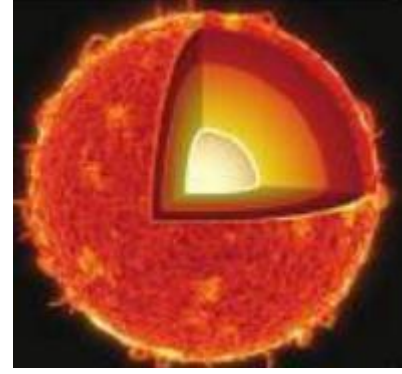
1

2

3


4

GÜNEŞ



3. Yukarıda Güneşin bir görselini görüyorsunuz güneşin katmanlarını içten dışa doğru yazarak. Güneşin en dış katmanı ve çekirdeğin sıcaklık değerini yazınız.

GÜNEŞ



4. Yukarıda Güneşin bir görseli verilmiştir. Güneşin yapısı ve özellikleri ile ilgili 5 madde yazınız.

1

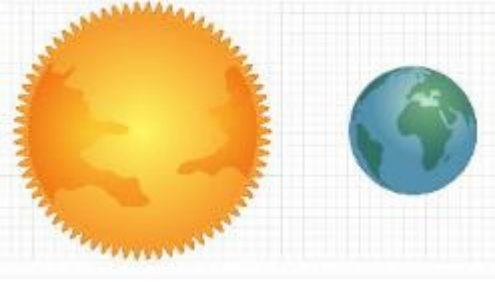
2

3

4

5

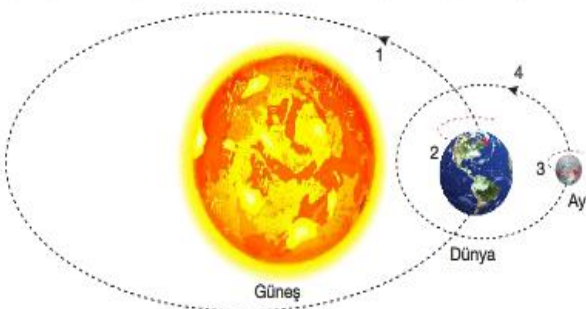
5. Aşağıda Dünya ve Güneş modelleri verilmiştir.



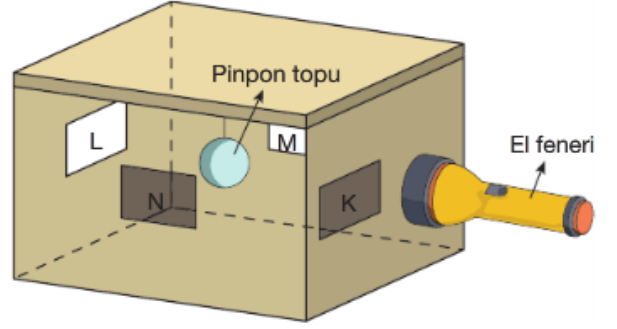
Güneş ile dünya arasındaki mesafesini, Dünyanın dolanma yönünü, Güneşin Dünyadan kaç kat büyük olduğunu ve Güneşin içerisine kaç adet Dünya sığacağını maddeler halinde yazınız.

- 1
- 2
- 3
- 4


6. Aşağıda Güneş Dünya ve Ay'ın dönme dolanma hareketleri resmedilmiştir. 1,2,3,4 numaralı hareketlerin hangi gökcismine ait olduğunu ve dönme ve dolanma yönlerini yazınız.



7) Aşağıda el feneri Güneşi, pinpon topu Ayı ve L deliğinden bakan biri olarak Ayın hangi evresini görürsünüz. Gördüğünüz bu evreyi bir ayda kaç kez göreceğinizi yazınız.



8. Canlıların gruplarını aşağıdaki tabloya yazınız.



9. Aşağıdaki tabloyu özellik canlıya aitise + değil ise - doldurunuz.

Canlılar	Balina	Serçe	Yarasa	Timsah
Özellikler				

Uçabilme				
Yavru bakımı				
Yumurta ile çoğalma				
Doğurarak çoğalma				

BAŞARILAR.....

