

ADI-SOYADI
SINIF-NO:





NOT:

1) Güneş'e en yakın gezegen hangisidir?

- Merkür
B) Mars
C) Dünya
D) Jüpiter

2) Ay tutulması hangisi gibi gerçekleşir?

A)



3) Dünya atmosferine giren taş parçalarına en ad verilir?

- Meteor
B) Yıldız
C) Gezegen
D) Bulut

4) Hangisi dengelenmiş kuvvetler etkisindedir?

- A) Ağaçtan düşen elma
B) Hızlanan araba
C) Köpekten kaçan çocuk
 Duran araba

5) Hangisi iskeletin görevidir?

- A) Sindirim yapar
B) Solunum yapar
C) Boşaltım yapar
 Vücuda şekil verir

6) Çalkalama hareketi ile yiyecekleri bulamaç haline getiren sindirim sistemi organı hangisidir?

- A) İnce Bağırsak
B) Yemek Borusu
 Mide
D) Anüs

7) Kalp ile vücut arasında kan taşıyan yapılar hangisidir?

- Damarlar
B) Soluk borusu
C) Akciğer
D) Yemek borusu

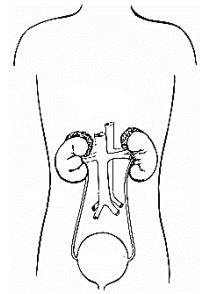
8) Yandaki organın adı ve bağlı olduğu sistem aşağıdakilerden hangisidir?

- A) Mide – Sindirim
B) Böbrek – Boşaltım
 Kalp – Dolaşım
D) Akciğer - Solunum



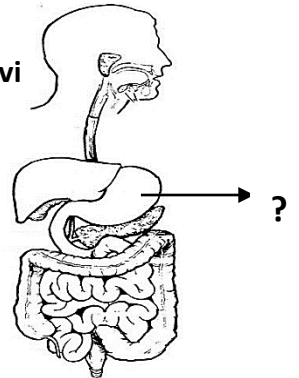
9) Yanda görseli verilen sistem aşağıdakilerden hangisidir?

- A) Solunum
 Boşaltım
C) Sindirim
D) Dolaşım

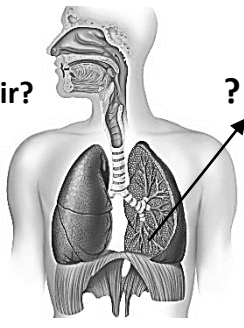


10) Yandaki görselde okla gösterilen organın adı ve görevi nedir?

- A) İnce bağırsak – Emilim
B) Yemek borusu- İletim
 Mide- Sindirim
D) Anüs – uzaklaştırma



11) Yandaki görselde ok ile gösterilen organın görevi nedir?



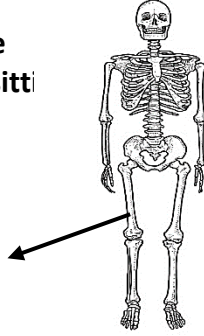
- A) Mide – Sindirim
B) Böbrek – Boşaltım
C) Kalp – Dolaşım
 D) Akciğer - Solunum



Yukarıda zeminde duran kutuya şekildeki kuvvetler etki etmektedir. Verilen kuvvetlere göre kutu hangi yöne doğru hareket eder?

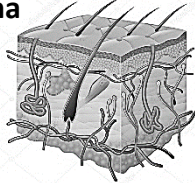
- A) Doğu B) Batı
C) Kuzey D) Güney

13) Yandaki görselde ok ile gösterilen kemik hangi çeşitti?



- A) Kısa kemik
 B) Uzun kemik
C) Yassı kemik
D) Yamuk kemik

14) Yanda görseli verilen boşaltıma yardımcı organlardan deri için hangisi doğrudur?



- A) Solunumla karbondioksit atar
B) İdrar ile fazla su ve tuzu atar
 C) Terleme ile su ve tuz atar
D) Sindirim atıklarını uzaklaştırır

15) Geçirdiği trafik kazası sonucu hastaneye kaldırılan Ahmet'in AB rH (-) kana ihtiyacı vardır. Aşağıdakilerden hangisi ona kan verebilir?

- A) A rH(-) B) B rH(-)
 C) AB rH (-) D) AB rH(+)

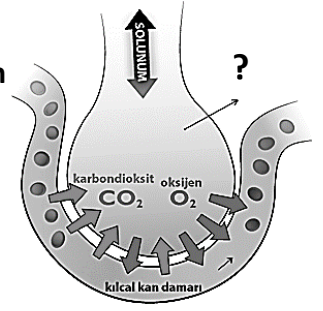
16) Aşağıdakilerden hangisi insanda boşaltım sistemi yapılarından biridir?

- A) Böbrek B) Kalp
C) Mide D) Beyin

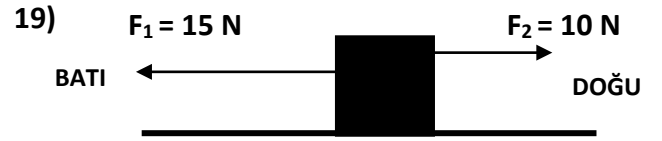
17) Aşağıdakilerden hangisi kana kırmızı rengini verir?

- A) Alyuvar B) Vişne suyu
C) Akyuvar D) Elma suyu

18) Akciğerlerin ucunda bulunan gaz değişimi gerçekleştiren (karbondioksit keseye geçer, oksijen kana geçer) hava keseciklerine ne ad verilir?



- A) Nefron B) Alveol
C) Villus D) Kan pulcukları



Yukarıda zeminde duran kutuya şekildeki kuvvetler etki etmektedir. Buna göre bileşke kuvvet (birden fazla kuvvetin yaptığı işi tek başına yapabilen kuvvet=net kuvvet) kaç N'dur?

- A) 15 N B) 25 N C) 5 N D) 10 N

20) Soluk alma sırasında aşağıdakilerden hangisi gerçekleşir?

- A) Mide kasılır B) Bacak kasları kasılır
 C) Diyafram kasılır D) Kalp kasılır

Başarılar 😊
Fen Bilimleri Zümresi