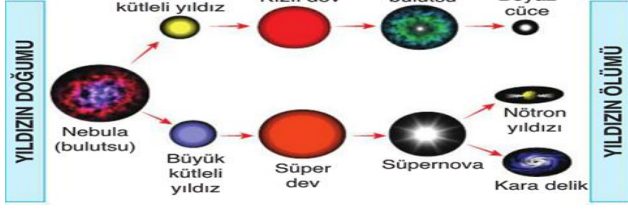


2023-2024 EĞİTİM ÖĞRETİM

YILI.....
ORTAOKULU 7.SINIFLAR BEP 1.DÖNEM 1.YAZILI
ADI SOYADI: SINIFI:
NO:

1.



Yukarıdaki yıldızın doğum ve ölüm döngüsünün başlangıcı olan bulutsunun diğer adını yazınız.

2.



Ülkemizin sahip olduğu bir uydu ismini yazınız



3. Yukarıda uzay kirliliğini gösteren bir görsel verilmiştir. Uzay kirliliğinin bir nedenini yazınız.

4.



Uzay araştırmalarının teknolojiye katkılarından 1 tanesini yazınız.

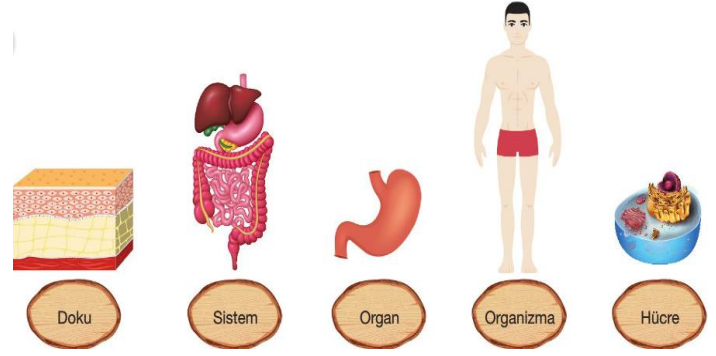
1.....

5. Aşağıdaki hücrenin bitki mi hayvan mı hücre olduğunu yazınız.

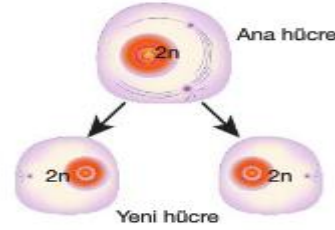


.....

6. Aşağıda bulunan kavramları küçükten büyüğe doğru sıralayınız.



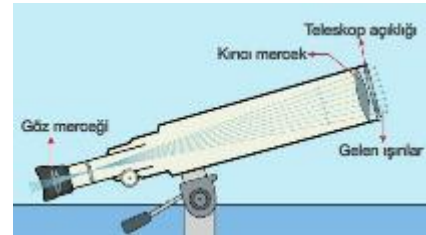
6. Aşağıdaki hücre bölünmesinin adını yazınız




8. Aşağıdaki genetik materyalin adını yazınız.



9. Aşağıdaki teknolojik araç hangi amaçla kullanılmaktadır.



10. Aşağıdaki teknolojik aracın adı nedir.



GÖKTÜRK 2



Her soru 10 puan başarılılar.