









2 m/s	180 km	60 km/h		480 km	12 km/h	2 m/s
	2 km/h	3600m		1 m/s		18 km
36 km		10 m/s	80 km	20 m/s	km/ h m/s	

2 m/s	180 km	60 km/h		480 km	12 km/h	2 m/s
	2 km/h	3600m		1 m/s		18 km
36 km		10 m/s	80 km	20 m/s	km/ h m/s	

2 m/s	180 km	60 km/h		480 km	12 km/h	2 m/s
	2 km/h	3600m		1 m/s		18 km
36 km		10 m/s	80 km	20 m/s	km/ h m/s	

2 m/s	180 km	60 km/h		480 km	12 km/h	2 m/s
	2 km/h	3600m		1 m/s		18 km
36 km		10 m/s	80 km	20 m/s	km/ h m/s	

# SORU KARTLARI

2 Dakikada 240 metre koşan kişinin sürati kaç m/s'dir?



Konya'dan saat 13:00 çıkan otobüs, saat 16:00 da Ankara'ya varmıştır. 240 km olduğuna göre otobüs ortalama olarak hangi süratle gitmiştir?



20 km yolu 120 dakikada alan kamyonun sürati nedir?



Sürati 90 km/h olan aracın 2 saatte alacağı yol nedir?



Sürati 30 m/s olan otomobil 2 dakikada kaç metre yol alır?



90 saniyede 900 metre giden bisikletlinin sürati kaç m/s dir?



10 m/s süratle giden otomobilin 60 dakikada alacağı yol kaç kilometredir?



Sürati 40km/h olan aracın 2 saatte alacağı yol nedir?



Bir otomobil İstanbul'dan Ankara'ya 80 km/h süratle 6 saatte gidittiğine göre Ankara İstanbul arası mesafe kaç km'dir?



72 km/h kaç m/s dir?



Bir otomobil 48 kilometrelik yolu 4 saatte gidebilmesi için otomobilin hızı kaç km/h'dir?



Dakikada 120 metre hızla giden motosikletlinin sürati kaç m/s'dir?



Süratın birimi nelerdir?



10 m/s süratle giden otomobilin 30 dakikada alacağı yol kaç kilometredir?



15 dakikada 900 metre giden Jet uçağın sürati kaç m/s'dir ?



# PİYONLAR

2 m/s	km/ h m/s	80 km
2 km/h	60 km/h	20 m/s
3600 m	180 km	36 km
10 m/s	12 km/h	2 m/s
18 km	1 m/ s	480 km

Nasıl oynanır?

1. Piyonlar ve soru kartları en dışlarından kesilir.
2. 4 erli gruplar oluşturulur
3. Oyun kartları gruplara dağıtıldıktan sonra soru kartlarından sırayla 1 kart seçilir
4. Soruyu doğru bilen cevabın olduğu piyonu kazanır.
5. Oyun kartında en çok piyonu olan öğrenci grupta oyunu kazanır

