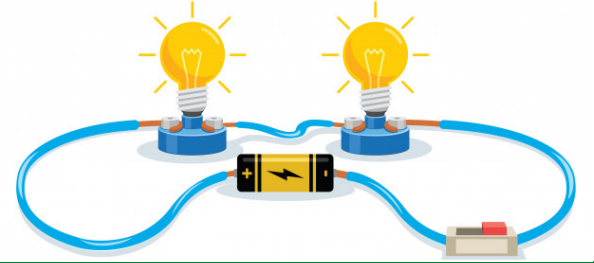
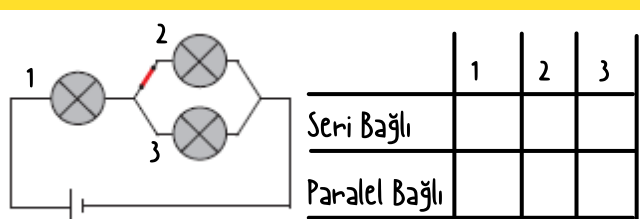
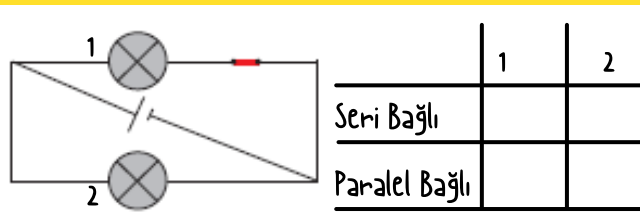
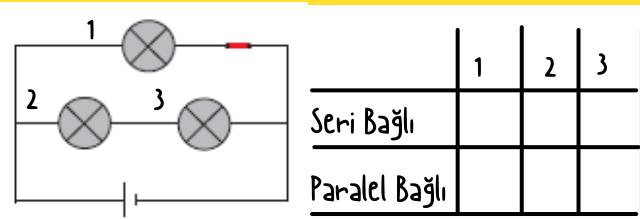
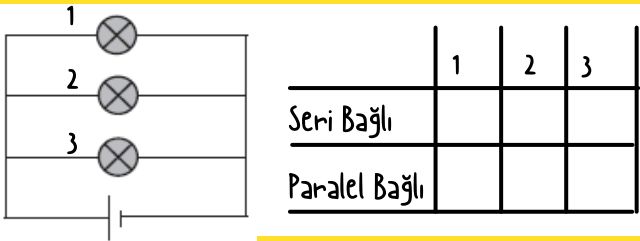
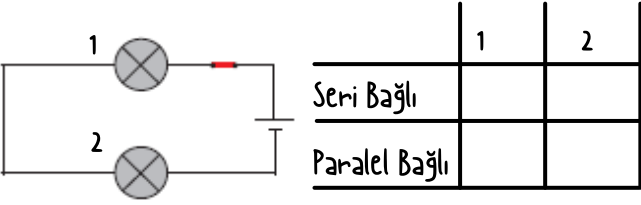


# ELEKTRİK DEVRELERİ



Aşağıdaki devrelerde ampullerin bağlanma şekilleri ile ilgili tabloları doldurunuz



Aşağıdaki ifadeleri uygun kavramlarla eşleştiriniz.

● Devre elemanları arasında bağlantıyı kuran devre elemanı

● Voltmetre

● Ampullerin farklı kollar üzerinde bulunduğu devre şekli

● Seri bağlı devre

● Devreden geçen akıma karşı gösterilen zorluk

● Üreteç

● Ampermetre

● Elektrik yüklerinin enerji farkını ölçen alet

● Direnç

● Bağlantı kablosu

● Ampul sayısı arttıkça parlaklıklarda azalma görülen devre türü

● Paralel devre

● Ampul

● Elektrik enerjisini ışık enerjisine çeviren araç

● Akım

● Devreye her zaman seri bağlanan devre elemanı