

2024-2025 EĞİTİM ÖĞRETİM

YILI.....
ORTAOKULU 5.SINIFLAR BEP 1.DÖNEM 1.YAZILI
ADI SOYADI: SINIFI:
NO:

1. Aşağıdaki Ayı hangi evresidir yazınız.

AY



2.

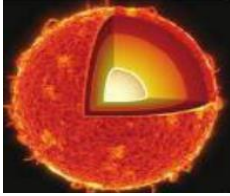
AY



Yukarıda Ayın bir görseli verilmiştir. Ayın ile ilgili bir tane bilgi veriniz.


1.....

GÜNEŞ




3. Yukarıda Güneşin bir görselini görüyorsunuz bu görsele bakarak Dünya ile ilgili hangi benzer özelliği söyleyebiliriz?
.....

GÜNEŞ



4. Yukarıda Güneşin bir görseli verilmiştir. Güneşin yapısı ve özellikleri ile ilgili bir madde yazınız.
.....

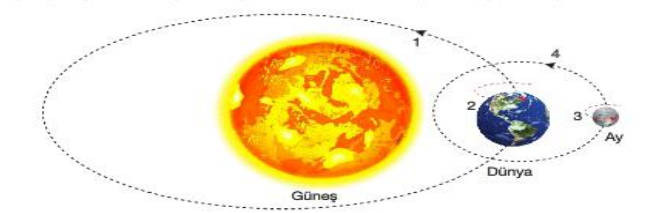
5. Aşağıda Dünya ve Güneş modelleri verilmiştir.



Güneş dünyadan kaç kat büyük olduğunu yazınız.

.....

6. Aşağıda Güneş Dünya ve Ay ın dönme dolanma hareketleri resmedilmiştir. 1,2,3,4 numaralı hareketlerin hangisi ayın dünya etradındaki dolanmasını göstermektedir.



.....

Noktalı yeri siz doldurunuz.

7. Ayın kendi etrafında dönme süresi ve Dünyanın etrafında dolanma süresi bir birine eşittir . Bundan dolayı biz Ayın hep.....yüzünü görürüz. Boşluğu doldurunuz.

8. Güneş Dünyaya en yakındır. Boşluğu doldurunuz.

9. Ay Dünyanın tek doğaldır. Boşluğu doldurunuz.

BAŞARILAR

